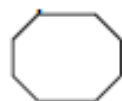


Savoir reconnaître quelques solides usuels

- Un solide est une forme géométrique qui a un volume.

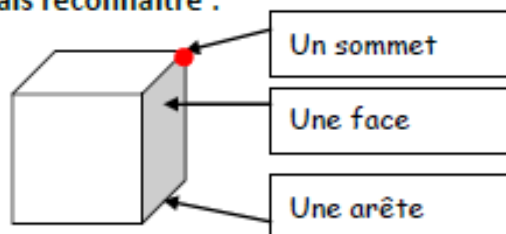
Une figure plane:





un solide :



- Je sais reconnaître :



- Les principaux solides sont :

le cube		6 faces carrées 8 sommets 12 arêtes
le pavé		6 faces rectangulaires 8 sommets 12 arêtes

